

**Демонстрационный вариант
География (стартовая работа)
6 класс**

Дополнительные материалы: географический атлас для 5 и 6 класса, калькулятор
Продолжительность работы: 30 минут

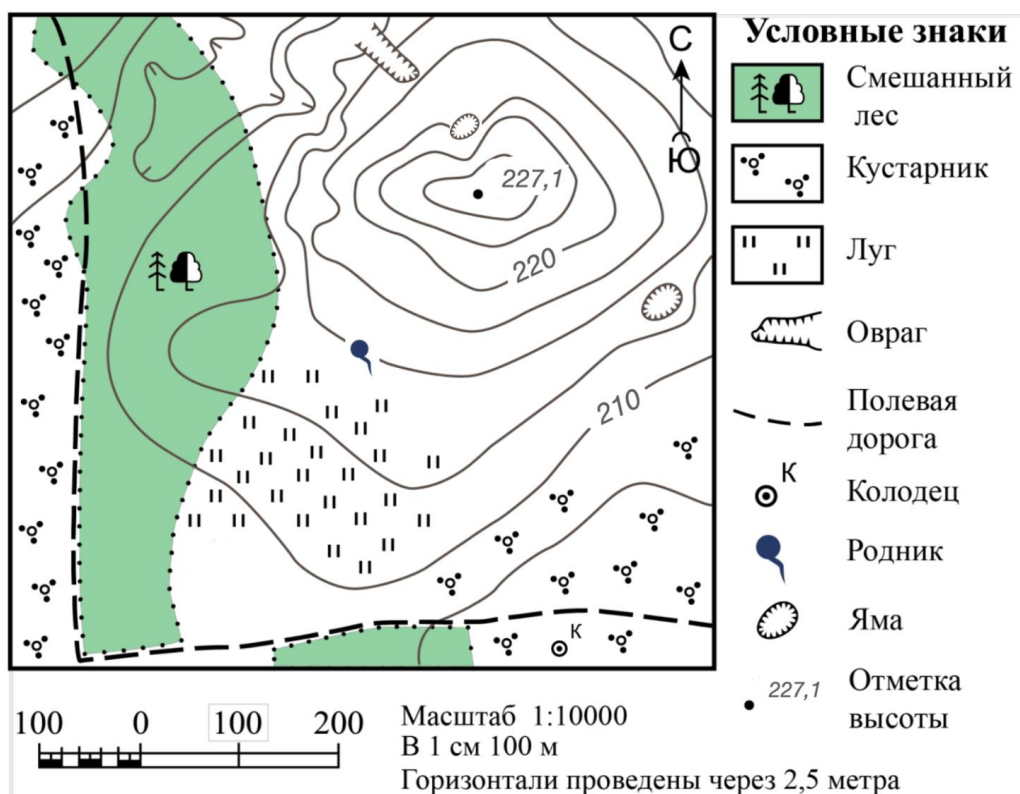
1 Кто первым из перечисленных мореплавателей достиг берегов Америки?

- 1) Христофор Колумб
- 2) Васко да Гама
- 3) Фернан Магеллан
- 4) Джеймс Кук

2 Определите, какой стороне горизонта будет соответствовать азимут 180° .

- 1) север
- 2) юг
- 3) запад
- 4) восток

3 Задание №3 выполняется с использованием приведённого фрагмента топографической карты.



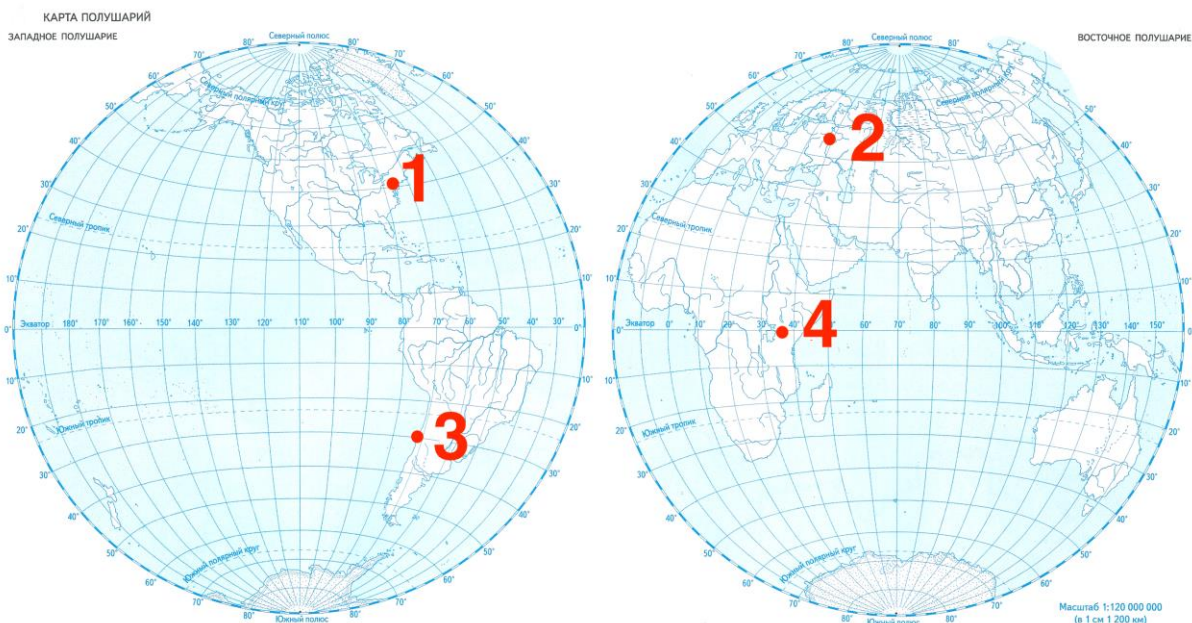
Определите, на какой высоте расположен родник. Ответ запишите в виде числа.

Ответ: _____ м.

4 Вычислите расстояние в километрах на местности, которое соответствует 1 см на карте с масштабом 1: 500000. Ответ запишите в виде числа.

Ответ: _____ км.

5 Определите, какая из точек, обозначенных на карте цифрой, имеет координаты 55° с.ш. и 37° в.д. Запишите выбранную цифру в ответ.



Ответ: _____.

6 Верны ли следующие утверждения о движении Земли и Солнца?

А. Земля совершает один оборот вокруг своей оси за 50 часов.

Б. Солнце обращается по орбите вокруг Земли.

- 1) верно только А
- 2) верно только Б
- 3) верны оба утверждения
- 4) оба утверждения неверны

7 На какой воображаемой линии на поверхности Земли, Солнце будет подниматься над горизонтом выше в день равноденствия?

- 1) экватор
- 2) северный тропик
- 3) южный тропик
- 4) южный полярный круг


8 В каком порядке в направлении от **центра** Земли расположены перечисленные части литосферы под материками? Полученную последовательность цифр запишите в ответ.

- 1) базальтовый слой
- 2) осадочный слой
- 3) гранитный слой
- 4) верхняя мантия

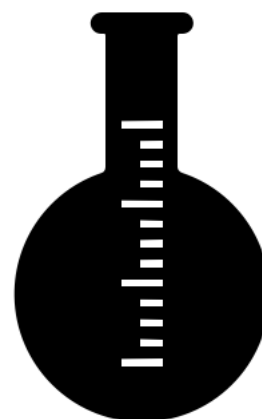
Ответ: _____.

9 Какое условное обозначение используется на географических картах для обозначения месторождений каменного угля?


1)



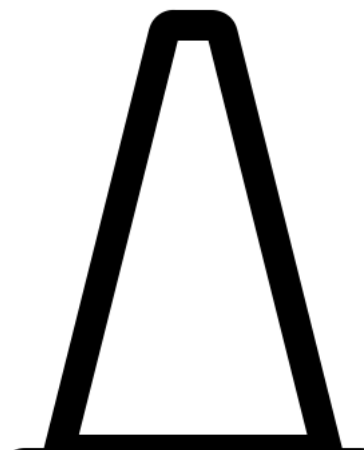
2)



3)



4)

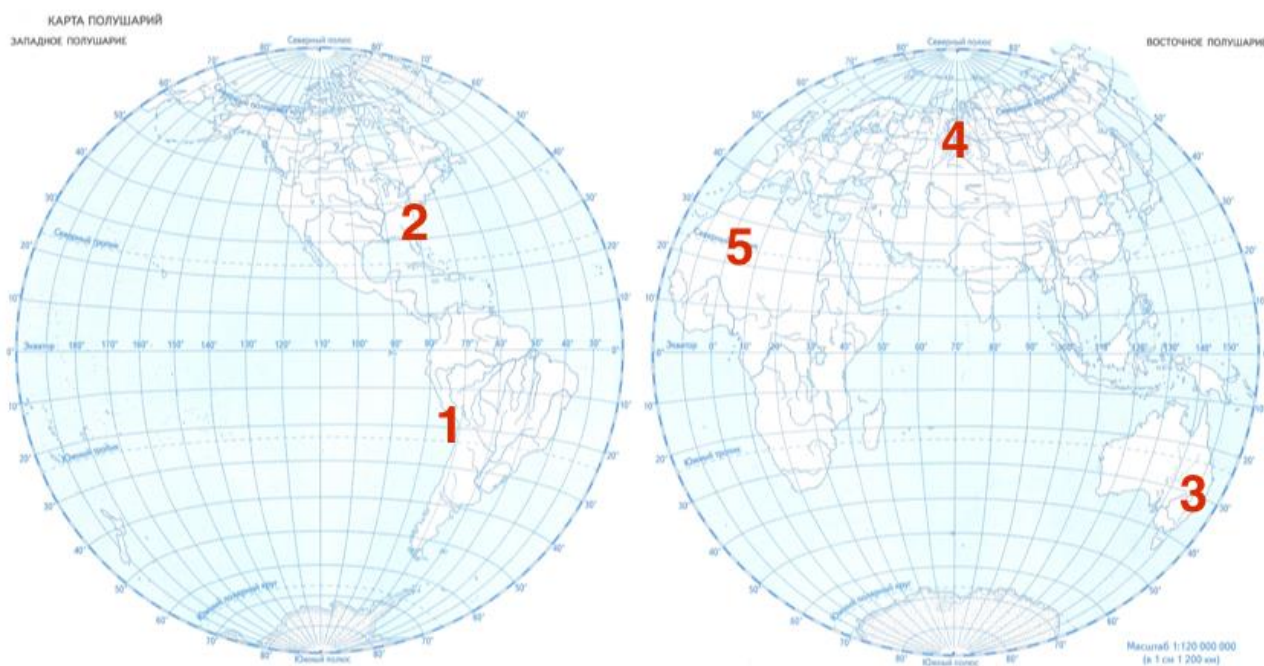


10 Какой цифрой на карте обозначены Кавказские горы? Запишите выбранную цифру в ответ.



Ответ: _____.

11 Какой цифрой на карте обозначен сейсмоопасный район? Запишите выбранную цифру в ответ.



Ответ: _____.

Ответы

№ задания	Ответ	Максимальный балл
1	1	1
2	2	1
3	215	1
4	5	1
5	2	1
6	4	1
7	1	1
8	4132	1
9	3	1
10	1	1
11	1	1